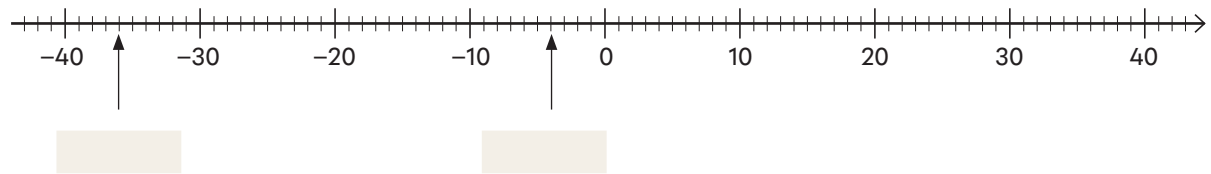


## Negative Zahlen verstehen


1. Trage die Zahlen **3**, **-12** und **-27** ein. Lies die markierten Zahlen ab.



2. In welchen Abschnitten liegt die Zahl? Ordne zu.

-5     -15     -25

Es kann für jede Zahl mehrere Lösungen geben.



3. Vergleiche die Zahlen. Trage das passende Zeichen ein.

5  -12    -13  -3    -54  5    -150  -120

> größer als  
< kleiner als  
= gleich groß

4. Berechne.

$50 - 70 =$       $-90 + 70 =$       $-50$    $= -90$      $-50$    $= 20$   
 $-70 - 50 =$       $-30 + 80 =$       $-70$    $= -30$      $30$    $= -30$

## Mit negativen Zahlen rechnen

5. Berechne.

$7 + (-3) =$       $5 + (-7) =$       $3 - (-7) =$       $-9 - (-5) =$    
 $8 - (+5) =$       $6 - (+8) =$       $-5 - (-4) =$       $-20 - (-5) =$

6. Berechne.

$2 \cdot (-3) =$       $5 \cdot (-4) =$       $(-3) \cdot (-2) =$    
 $(-4) \cdot 3 =$       $(-10) \cdot 6 =$       $(-2) \cdot (-3) =$

7. Gib Annas Kontostand an. Schreibe deine Rechnungen auf der Rückseite auf.


Anna hat 45 Euro Schulden.    Kontostand:  €  
 Sie bekommt von ihrer Mutter 30 Euro Taschengeld.    Neuer Kontostand:  €  
 Ihre Oma schenkt ihr 20 Euro.    Neuer Kontostand:  €

## Negative Dezimalzahlen verstehen

8. In welchen Abschnitten liegt die Zahl? Ordne zu.

-0,8     -0,3     -0,38

Es kann für jede Zahl mehrere Lösungen geben.



Datum	NEGATIVE ZAHLEN VERSTEHEN – MIT NEGATIVEN ZAHLEN RECHNEN – NEGATIVE DEZIMALZAHLEN VERSTEHEN									
	Förderweg	Bemerkungen	Fördermodul (EAG)							
Name			1	2	3	4	5	6	7	